


ILLUSIONS d'OPTIQUE



Le point rouge est-il plus haut que la moitié

De la hauteur Du triangle ?



mesurez, pour voir...

Laquelle De ces Deux piles est la plus élevée ?



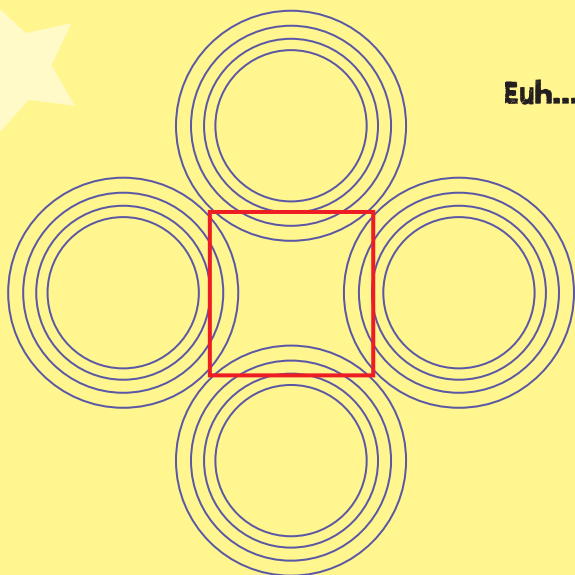
Eh oui,
elles sont
De la même
hauteur !

Ce chapeau est-il plus haut que large ?



**Aussi inCroyable
que cela puisse paraître, non !
Il est aussi haut que larGe !**

Le Carré Du centre est-il parfaitement Droit ?



Euh... mais oui !



COMBIEN VALENT LÉON, LE CHAT ET LOLA?



$$\text{Léon} + \text{Léon} + \text{Lola} = 35$$

$$\text{Chat} + \text{Chat} - \text{Chat} = 5$$

$$\text{Lola} + \text{Léon} - \text{Chat} = 17$$

$$\text{Chat} + \text{Lola} + \text{Lola} = 23$$

Ces cinq mots finissent tous
par les trois mêmes lettres.
Lesquelles ?

Mas

Prati


Arna

Pastè

Remar

SILHOUETTE SECRÈTE

Pour découvrir la silhouette qui se cache dans ce dessin, vous n'avez qu'à noircir toutes les formes contenant une étoile!



Reliez le nom de l'animal à l'image de sa fourrure, sans utiliser de diagonales et sans croiser les lignes. Un autre détail : vous devez vous servir de toutes les cases... Bonne chance!

						Léopard
Tigre						
				zèbre		
						
Vache						
						Girafe

